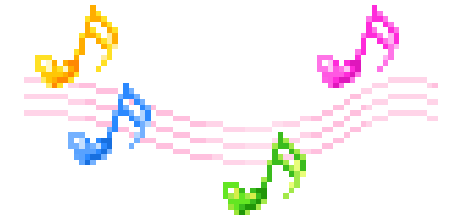





# CHÀO MỪNG CÁC THẦY CÔ VỀ DỰ GIỜ THĂM LỚP MÔN TOÁN

*Giáo viên: Lê Thị Thanh*



CHỦ ĐỀ 8

PHÉP NHÂN, PHÉP CHIA



BÀI 40

BẢNG NHÂN 5



# LUYỆN TẬP





luyện tập

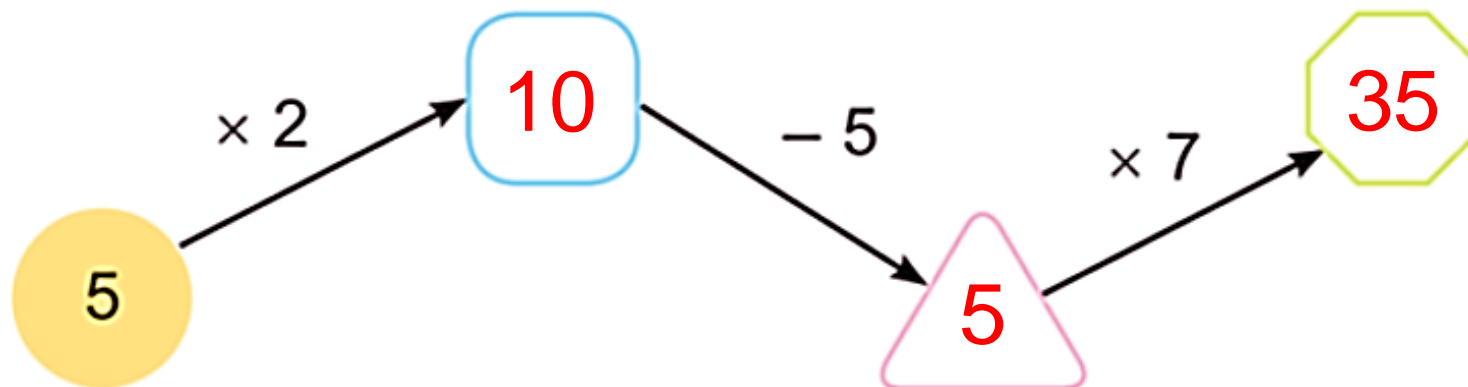
1

Số ?

a)

Thừa số	5	5	5	5	5	5	5	5
Thừa số	3	5	7	9	2	4	6	8
Tích	15	25	35	45	10	20	30	40

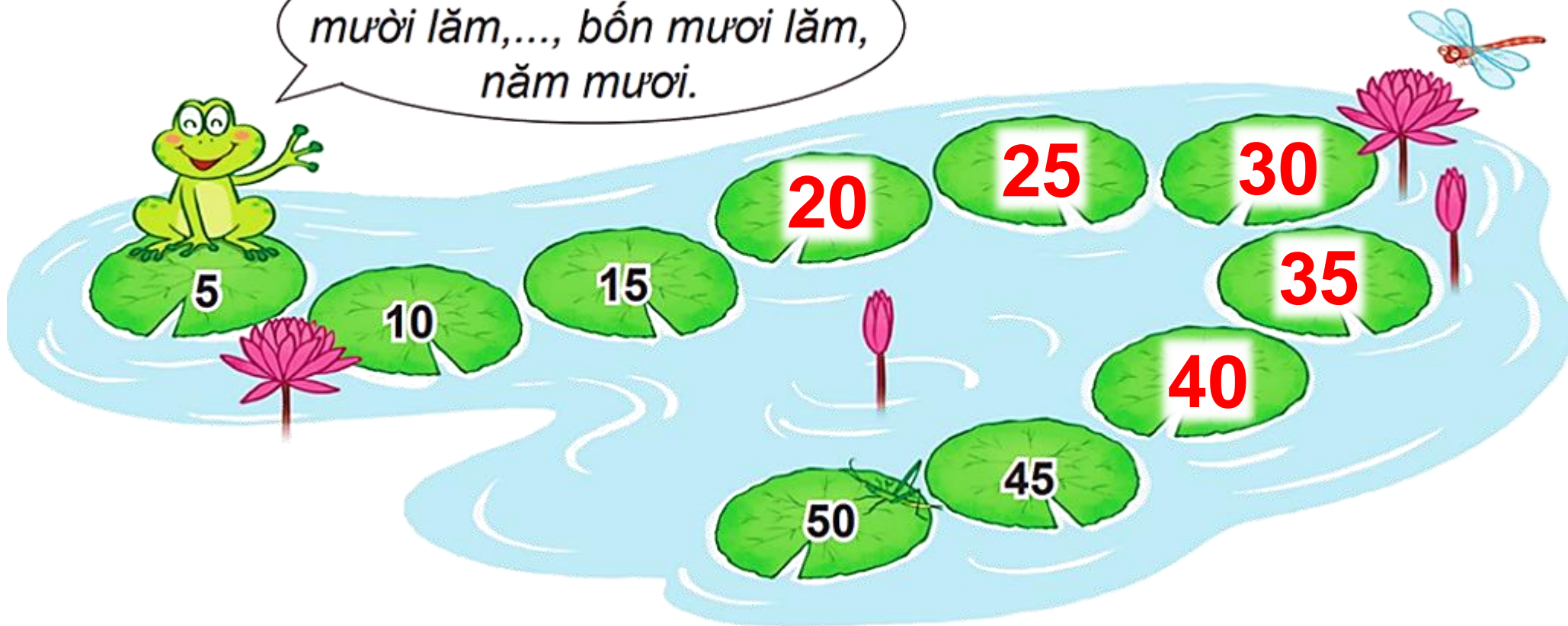
b)





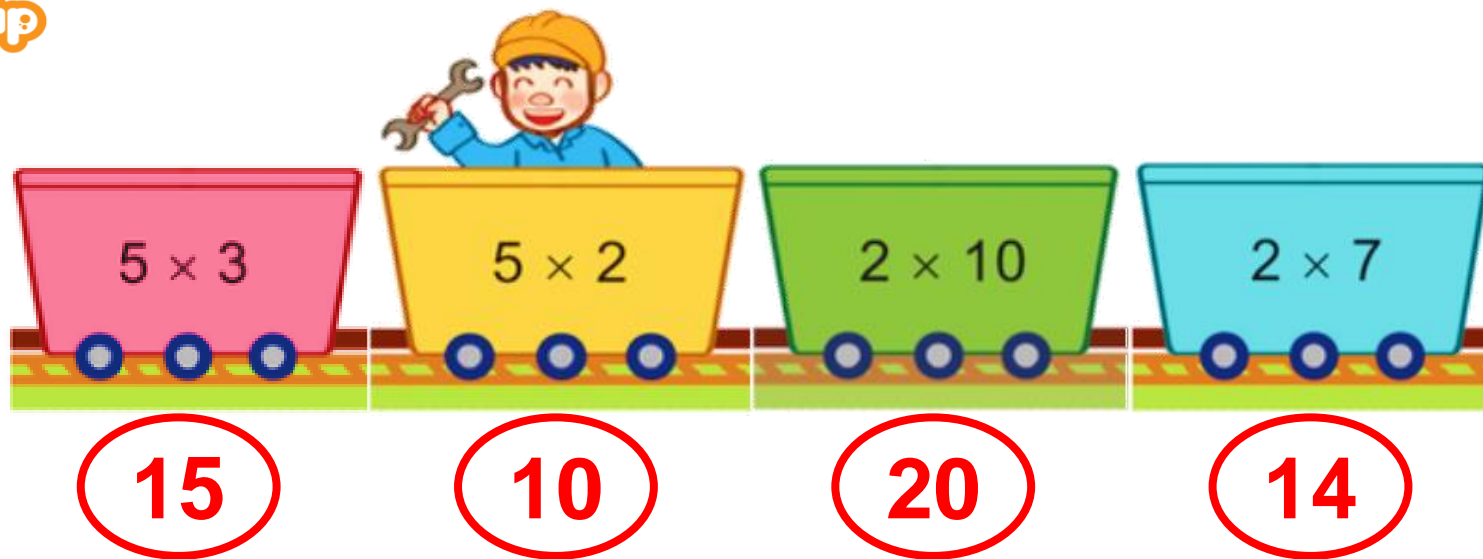
**2** Đếm thêm 5 rồi  
nêu số còn thiếu.

*Năm, mười,  
mười lăm,..., bốn mươi lăm,  
năm mươi.*





3



a) Toa tàu nào ghi phép tính có kết quả lớn nhất?

b) Toa tàu nào ghi phép tính có kết quả bé nhất?



- 4** Bác Hòa làm ống hút bằng tre thay ống nhựa. Mỗi đoạn tre làm được 5 ống hút. Hỏi với 5 đoạn tre như vậy, bác Hòa làm được bao nhiêu ống hút?



### *Bài giải*

Với 5 đoạn tre như vậy, bác Hòa làm được số ống hút là:

$$5 \times 5 = 25 \text{ (ống hút)}$$

Đáp số: 25 ống hút.

# Rung chuông vàng

Thư viện nhạc



24h.com.vn



Chọn kết quả đúng nhất trong các phép tính sau:

$$5 \times 8 = ?$$



A. 20

B. 50

C. 40



$$5 \times 3 = 15$$



?





Chúc các em chăm ngoan, học giỏi